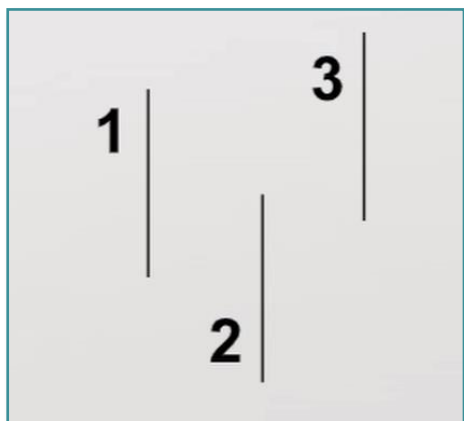
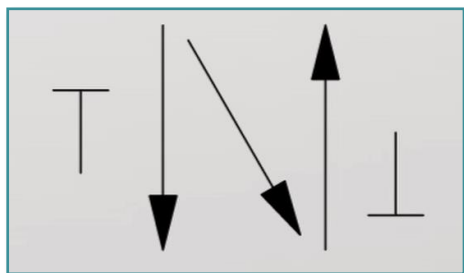

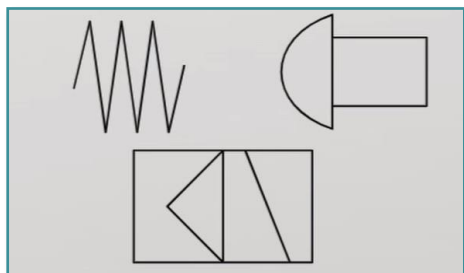


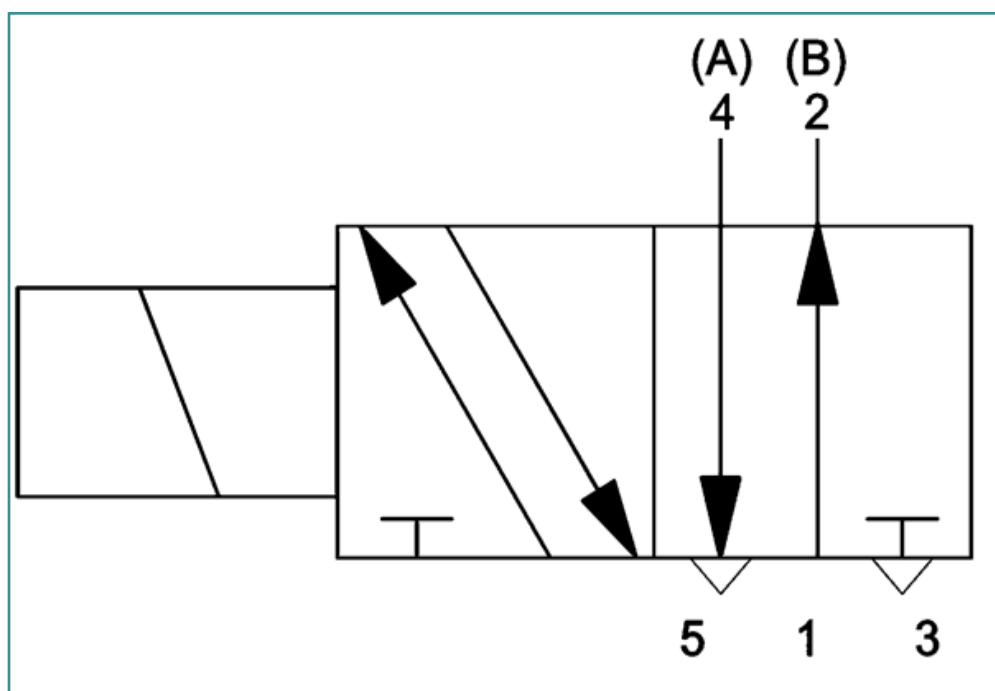
I. Uveď názov prvku zobrazeného na obrázku.



II. Čo znamená číslo 1 v označení schematických značiek ventilov? Vyber jednu z možností.

- prívod vzduchu
- pracovný výstup
- odfuk

III. Čím je ovládaný nasledovný ventil? Vyber jednu z možností.



- pákou
- solenoidom
- kladkou
- pružinou

- IV. Napíš názov ventilu, ktorý sa vráti do svojej pokojovej polohy po odznení aktivačného signálu.
(1 slovo)

- V. Napíš písmeno, ktoré sa používa na označenie beztlakového zvodu do nádrže pri hydraulických ventiloch.

- VI. Photo credits: STEP IN partnerstvo

- VII. Poznámky:

STEP IN to the online world/virtual learning, Facilitation of access to Vocational practice through online teaching at secondary technical schools

Projekt je spolufinancovaný z prostriedkov Európskej únie, programu ERASMUS+.

Číslo projektu: 2020-1-SK01-KA226-VET-094400

Podpora Európskej komisie na výrobu tohto materiálu nepredstavuje súhlas s obsahom, ktorý odráža len názory autorov, a Komisia nemôže byť zodpovedná za prípadné použitie informácií, ktoré sú v nej obsiahnuté..

Projekt STEP IN sa realizuje v partnerstve:

