


I. Musí být zavěšení tažného vozidla před couváním pod přívěsem sníženo?

ANO / NE

II. Spárujte trakční stůl a spojovací čep se správným číslem.




trakční stůl



spojovací čep


III. Na obrázku označte parkovací brzdou přívěsua vyznačte správnou odpověď.



v červeném kroužku

v modrém kroužku

IV. Na obrázku najděte zamykací rukojeť pátého kola, a také kontrolku zámku.




kontrolka zámku



rukojeť zámku

V. Co lze ovládat tímto spínačem?



- zámek pátého kola
- odpružení pro spodní polohu
- odpružení do horní polohy
- ovládání úrovně odpružení
- parkovací brzda

VI. Photo credits: STEP IN partnerství

VII. Poznámky:

STEP IN to the online world/virtual learning, Facilitation of access to Vocational practice through online teaching at secondary technical schools

Projekt je spolufinancován z prostředků Evropské unie, programu ERASMUS+.

Číslo projektu: 2020-1-SK01-KA226-VET-094400

Podpora Evropské komise při tvorbě tohoto materiálu nepředstavuje souhlas s obsahem, který odráží pouze názory autorů, a Komise nemůže být zodpovědná za jakékoliv využití informací obsažených v této publikaci.

Projekt STEP IN se realizuje v partnerství:

