






I. Vyber obrázok, ktorý znázorňuje 4/2 monostabilný ventil.



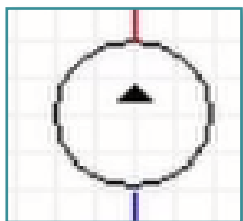
II. Vyber obrázok, ktorý znázorňuje hydraulický dvojčinný valec.



III. Vyber obrázok, ktorý znázorňuje poistný jednosmerný ventil s pružinou.



IV. Napíš názov prvku, ktorý znázorňuje táto značka.



V. Vyber tú možnosť, ktorá správne opisuje funkciu poistného jednosmerného ventilu s pružinou.

- Určuje smer toku prúdenia hydraulického oleja.
- Chráni hydrogenerátor pred spätným tokom hydraulického oleja.
- Zabezpečuje lisovanie a posun v hydraulike.

VI. Photo credits: STEP IN partnerstvo

VII. Poznámky:

STEP IN to the online world/virtual learning, Facilitation of access to Vocational practice through online teaching at secondary technical schools

Projekt je spolufinancovaný z prostriedkov Európskej únie, programu ERASMUS+.

Číslo projektu: 2020-1-SK01-KA226-VET-094400

Podpora Európskej komisie na výrobu tohto materiálu nepredstavuje súhlas s obsahom, ktorý odráža len názory autorov, a Komisia nemôže byť zodpovedná za prípadné použitie informácií, ktoré sú v nej obsiahnuté.

Projekt STEP IN sa realizuje v partnerstve:

