



I. Scegli l'immagine che rappresenta la valvola di controllo del flusso unidirezionale.





II. Scegli la risposta corretta:

La velocità dell'asta del pistone assemblata con la valvola di controllo del flusso unidirezionale potrebbe essere influenzata da un carico contrastante ciclico?

Si potrebbe.

No, non potrebbe.

III. Scegli l'immagine che rappresenta la valvola di controllo del flusso bidirezionale.



IV. Scegliere la risposta corretta. (2wFCV= valvola di controllo del flusso bidirezionale)

2wFCV mantiene il livello preimpostato del flusso.

2wFCV è anche chiamato valvola di controllo del flusso compensato.

Tutte le risposte sono corrette.

V. Scegli la risposta corretta:

2wFCV è efficace contro il carico ciclico contrastante?

- Si
- No

VI. Crediti fotografici: partnership STEP IN

VII. Appunti:

STEP IN to the online world/virtual learning, Facilitation of access to Vocational practice through online teaching at secondary technical schools

Il progetto è cofinanziato dal programma ERASMUS+ dell'Unione Europea.

Numero del contratto: 2020-1-SK01-KA226-VET-094400

Il sostegno della Commissione europea alla produzione di questo materiale non costituisce un'approvazione del contenuto, che riflette esclusivamente il punto di vista degli autori, e la Commissione non può essere ritenuta responsabile per l'uso che può essere fatto delle informazioni ivi contenute.

Progetto STEP IN in collaborazione con:

