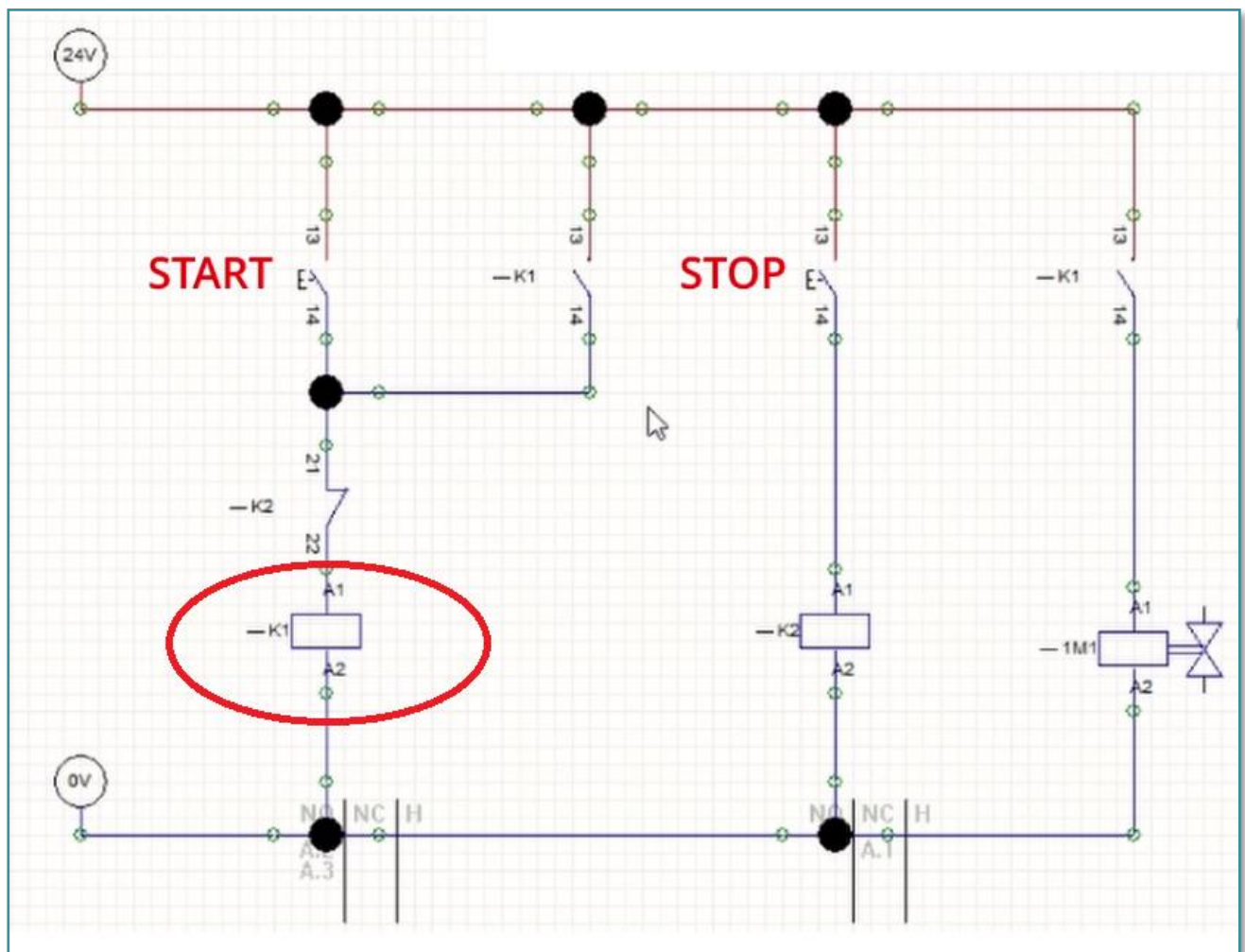


I. Scegli l'opzione con il nome corretto della valvola che assicura il ritorno rapido di uno stelo.

- valvola di controllo
- valvola di controllo del flusso
- valvola di scarico rapido

II. Scrivi il nome dell'elemento cerchiato nel circuito.

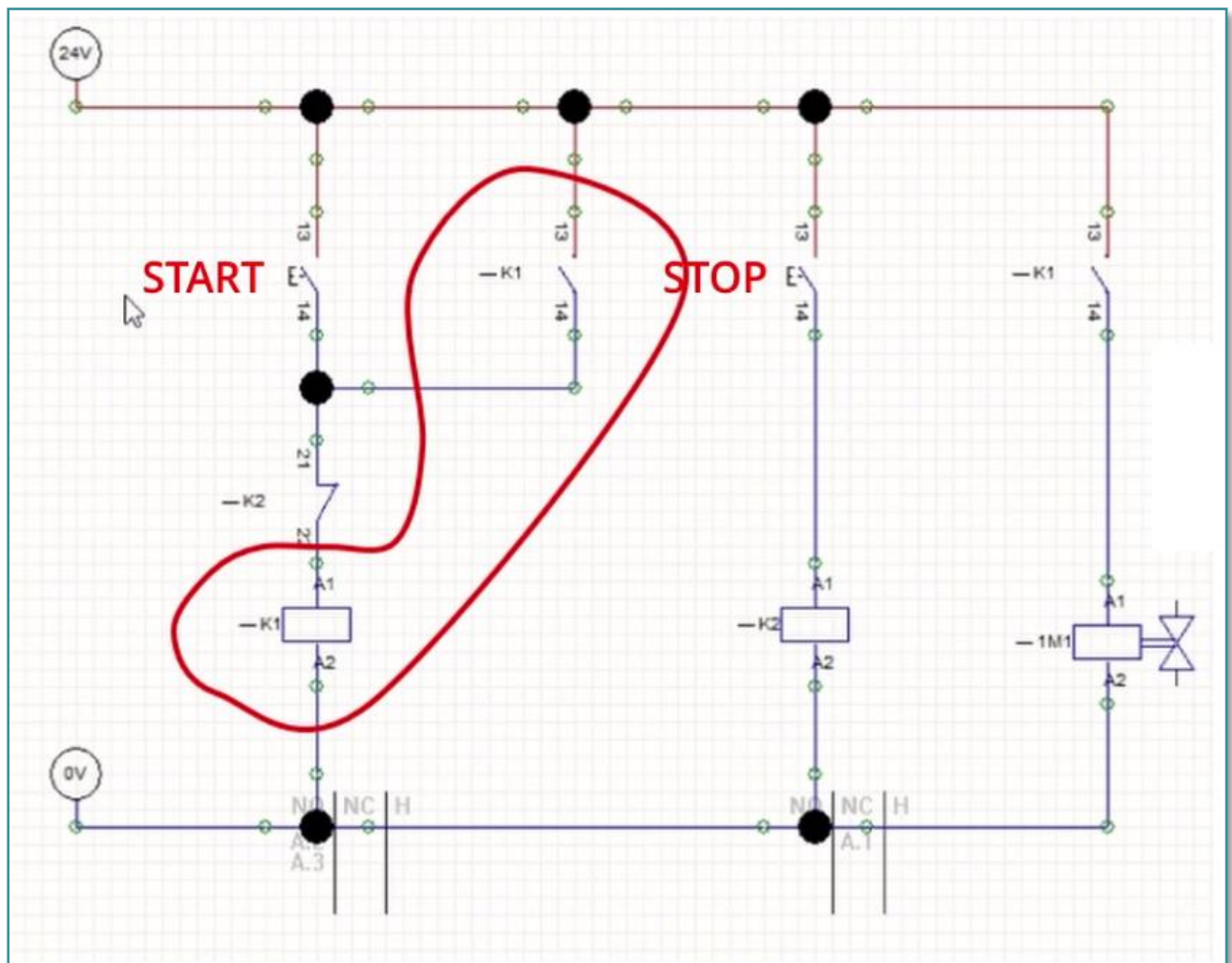


III. Scegli il nome corretto del relè in funzione con il tasto STOP.

K1

K2

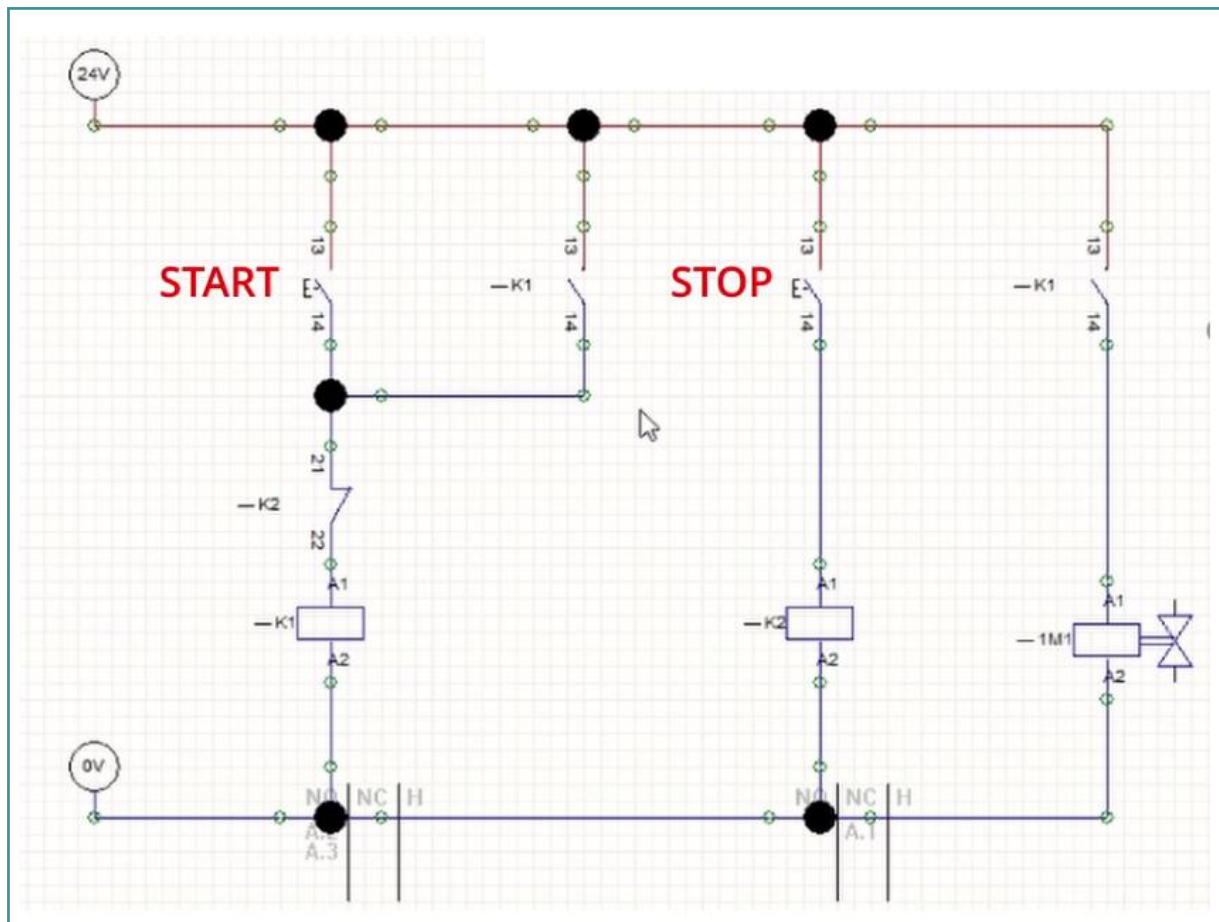
IV. Scegli l'affermazione corretta.



La parte marcata del circuito realizza la funzione di memorizzazione.

La parte marcata del circuito realizza la funzione di cancellazione.

V. Quale tipo di contatto con un relè K2 viene utilizzato per la realizzazione della funzione di cancellazione nel seguente schema?



- NO – normalmente aperto
- NC – normalmente chiuso

VI. Crediti fotografici: partnership STEP IN

VII. Appunti:

STEP IN to the online world/virtual learning, Facilitation of access to Vocational practice through online teaching at secondary technical schools

Il progetto è cofinanziato dal programma ERASMUS+ dell'Unione Europea.

Numero del contratto: 2020-1-SK01-KA226-VET-094400

Il sostegno della Commissione europea alla produzione di questo materiale non costituisce un'approvazione del contenuto, che riflette esclusivamente il punto di vista degli autori, e la Commissione non può essere ritenuta responsabile per l'uso che può essere fatto delle informazioni ivi contenute.

Progetto STEP IN in collaborazione con:



Co-funded by the  
Erasmus+ Programme  
of the European Union

[stepintolearning.eu](http://stepintolearning.eu)



TEST DI LIVELLO  
DI INGRESSO  
MODULO 4 / TEST 3