


I. Nimeä kuvan osat yhdistämällä oikeat numerot.



Ajosuunnan vaihdin

1

Polttoainemittari

2



Seisontajarru

3

Nostolaitteiden käyttövivusto

4

#### II. Yhdistä oikea kuvaus kuvissa näkyvästä.



näyttää mistä tarkistat  
moottoriöljyn määrän

näyttää, kuinka tiedät, onko  
akussa olevan tarpeeksi vettä

#### III. Missä vaiheessa lisätään sähkötrukin akkuihin vettä?

- Käytön jälkeen
- Latauksen jälkeen
- Joka tauolla

#### IV. Millaista nestettä lisätään sähkötrukin akkuihin?

- Tislattua vettä
- Hanavettä
- Mitä tahansa nestettä

#### V. Mistä tietää, että akuissa on tarpeeksi nestettä?

- Virtaushyrrä pysähtyy
- Latausmittarista/-valoista
- Akkujen kohot nousevat ylös



VI. Missä kuvassa kaasupullo on oikein telineessä?



VII. Valokuvat: STEP IN kumppanuus

VIII. Huomautuksia:

STEP IN to the online world/virtual learning, Facilitation of access to Vocational practice through online teaching at secondary technical schools

Hanketta osarahoittaa Euroopan unionin Erasmus+ -ohjelma.

Sopimuksen numero: 2020-1-SK01-KA226-VET-094400

Euroopan komission tuki tämän materiaalin tuottamiseen ei tarkoita sitä, että sisältö, joka kuvastaa pelkästään tekijöiden näkemyksiä, saa kannatusta, eikä komissiota voida saattaa vastuuseen niiden sisältämien tietojen mahdollisesta käytöstä.

STEP IN -hanke yhteistyössä seuraavien tahojen kanssa:

