


I. Nominare le parti nell'immagine abbinando i numeri corretti.



Maniglie di sollevamento

1

Avanti/indietro

2



Livello del carburante

3

Freno a mano

4

II. Abbina la descrizione corretta a quanto mostrato nelle immagini.



Che mostra dove controllare
la quantità di olio motore

Mostrando come sapere se la
batteria ha abbastanza acqua

III. A che punto viene aggiunta acqua alle batterie di un carrello elevatore elettrico?

- Dopo la ricarica
- Dopo l'uso
- Ad ogni pausa

IV. Che tipo di liquido viene aggiunto alle batterie di un carrello elevatore elettrico?

- Acqua distillata
- Acqua naturale
- Qualsiasi liquido

V. Come fai a sapere se c'è abbastanza liquido nelle batterie?

- Il giroscopio di flusso si ferma
- Le elevazioni della batteria aumentano
- Contatore(i) di carica

VI. Dove, nella foto, è correttamente posizionata sul supporto la bombola del gas?



VII. Crediti fotografici: partnership STEP IN

VIII. Appunti:

STEP IN to the online world/virtual learning, Facilitation of access to Vocational practice through online teaching at secondary technical schools

Il progetto è cofinanziato dal programma ERASMUS+ dell'Unione Europea.

Numero del contratto: 2020-1-SK01-KA226-VET-094400

Il sostegno della Commissione europea alla produzione di questo materiale non costituisce un'approvazione del contenuto, che riflette esclusivamente il punto di vista degli autori, e la Commissione non può essere ritenuta responsabile per l'uso che può essere fatto delle informazioni ivi contenute.

Progetto STEP IN in collaborazione con:

